

Übung
Literaturangabe/Literaturverzeichnis

Aufgabe:

Erstellen Sie aus den Anlagen 1 – 7 ein Literaturverzeichnis mit den jeweils korrekten Literaturangaben.

Lang und eindringlich: Premiere von Becketts „Endspiel“ im Großen Haus des Heilbronner Theaters. Seite 13



Wenn die Bürger sagen, wo es langgeht: Erfahrungen von Rathauschefs. Seite 26



Michaela Schmetzer erz im Interview der Woche, Landfrauen bewirken.

HEILBRONNER STIMME

Montag
5. Oktober 2020

Zeitung für die Region
Heilbronn-Franken
Hohenlohe
Kraichgau

Nr. 230 · 2,20 Euro


Deutschland feiert die Einheit

Redner gehen auf das Spannungsverhältnis zwischen Ost und West ein

Von Jutta Schütz, Klaus Peters
und Oliver von Riegen, dpa

POTSDAM Am 30. Jahrestag der Deutschen Einheit hat Bundespräsident Frank-Walter Steinmeier die Bundesbürger in Ost und West zum Zusammenhalt aufgerufen. „Unser Land zeigt in diesen Corona-Zeiten, dass wir zusammenstehen, dass wir stark sind und verantwortungsvoll handeln“, sagte Steinmeier am Samstag beim Festakt zum Einheitsjubiläum in Potsdam. „Ja, wir leben heute in dem besten Deutschland, das es jemals gegeben hat.“

Misstände Er forderte den Abbau von Ungleichheiten. „Beseitigen wir Misstände, wo sie noch bestehen, hören wir vor allen Dingen uns gegenseitig zu, lernen wir voneinander, egal ob im Osten oder Westen, im Norden oder im Süden.“



Bundespräsident Frank-Walter Steinmeier will mehr Zusammenhalt. Foto: dpa

Die Einheitsfeier stand unter dem Eindruck der Corona-Krise. Ein großes Bürgerfest gab es nicht, zum Festakt kamen weniger Gäste – und alle Besucher mussten Masken tragen. Zu den Gästen zählten unter anderem Kanzlerin Angela Merkel (CDU) und Bundestagspräsident Wolfgang Schäuble.

Mit dem Song „Startschuss“ stimmte Sängerin und Moderatorin Anna Loos die rund 230 Gäste auf den Festakt ein. Auf einer Videowand leuchteten Bilder mit Szenen aus den drei Dekaden auf: Etwa von Bundeskanzler Helmut Kohl (CDU) mit dem sowjetischen Staatschef Michail Gorbatschow, vom Fußball-Sommermärchen 2006 oder dem deutschen Papst Joseph Ratzinger.

Mut gefordert Die Bundeskanzlerin forderte Mut: „Wir wissen, wir müssen heute wieder mutig sein“, sagte sie. „Mutig, neue Wege zu gehen angesichts einer Pandemie, mutig, die noch bestehenden Unterschiede zwischen Ost und West auch wirklich zu überwinden, aber auch mutig, den Zusammenhalt unserer ganzen Gesellschaft immer wieder einzufordern und dafür zu arbeiten.“

Seite 2

Anlage 2



IK Nr. 5 vom 15.05.2020 Seite 11

Volkswirtschaft

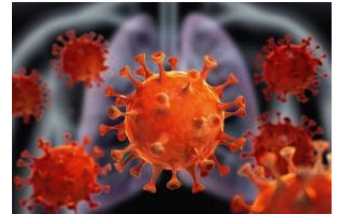
Lernfeld 9

Corona lähmt Wirtschaft und Gesellschaft weltweit

Dipl.-Kfm. Dipl.-Hdl. Bernt Schumacher; Reinbek

Die Corona-Pandemie hält die Welt in Atem. Vor großen Herausforderungen steht in erster Linie das deutsche Gesundheitssystem. Es muss alles getan werden, damit es nicht kollabiert. Dazu wird die Strategie verfolgt, die Ausbreitung des Virus stark zu verlangsamen. Der Corona-Ausbruch hat auch die Wirtschaft fest im Griff. Lieferketten sind unterbrochen und Produktionen teilweise stillgelegt. Die gesamte Gesellschaft muss weitreichende Beschränkungen verkraften.

© peterschreiber.media - AdobeStock



Corona-Krise in Asien

Wie eng die globale Wirtschaft miteinander verflochten ist, zeigen die Folgen des Corona-Ausbruchs in der chinesischen Provinz Hubei und besonders in der Millionenstadt Wuhan. Sie wurde abgeriegelt und unter Quarantäne gestellt, wie auch mehrere andere Städte der Region. Das gesamte öffentliche Leben für rund 45 Millionen Einwohner kam zum Erliegen. Geschäfte machten dicht. Zulieferbetriebe (z. B. Airbus) drosselten die Produktion oder stellten sie ganz ein. Fluggesellschaften wie die Lufthansa oder British Airways flogen Ziele in China nicht mehr an. Passagiere von Kreuzfahrtschiffen durften nicht an Land. Doch das war nur der Anfang. Und Corona war weit weg. In Deutschland nur eine Randnotiz in den Medien.

Corona in Europa angekommen

Im Februar hatte das Corona-Virus dann auf breiter Front Europa erreicht. In der wirtschaftlich besonders wichtigen Region Oberitalien mussten ganze Dörfer und Kleinstädte abgeschottet und unter Quarantäne gestellt werden, um die Verbreitung des Virus einzudämmen. Bei uns waren zu diesem Zeitpunkt hauptsächlich ein Automobilzulieferer in Bayern mit Kontakt nach China sowie der Landkreis Heinsberg in Nordrhein-Westfalen betroffen, andere Bundesländer folgten aber bald. Erste Großveranstaltungen wie die Internationale Tourismusborse in Berlin und die Leipziger Buchmesse wurden abgesagt. Fußballspiele der ersten italienischen Liga fanden vor leeren Rängen statt. In Europa entwickelte sich Italien zum Hotspot mit den meisten Corona-Infizierten und Todesopfern. Doch dabei sollte es nicht bleiben.

Anfang März wurde von der italienischen Regierung beschlossen, das öffentliche Leben im gesamten Land für die nächsten Wochen stark einzuschränken. Ganz Italien wurde zur „roten Zone“. Die Bürger mussten zu Hause bleiben. Kindergärten, Schulen, Universitäten und Museen wurden geschlossen, Veranstaltungen mit mehr als 1.000 Personen verboten. Bars und Restaurants waren nur bis 18.00 Uhr geöffnet. Das Auswärtigen Amt sprach für die Regionen Norditaliens eine Reisewarnung aus. In Deutschland gab es die ersten beiden Todesfälle.



Feld 7

Geschäftsfälle erfassen und buchen

4.1.2 Wertschöpfung und Mehrwert

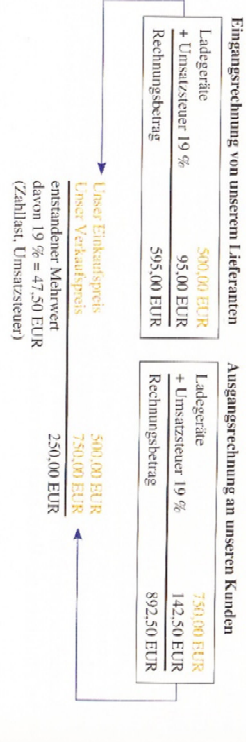
Viele der im Handel angebotenen Waren legen einen langen Weg über die Urzeugung, Weiterverarbeitung und den Groß- und Einzelhandel bis zum Endverbraucher zurück. Auf jeder Stufe des Warenwegs werden die Waren *mehr wert*, da die Leistungen der jeweiligen Betriebe und deren Gewinne auf den ursprünglichen Wert zugeschlagen werden. Diese **Wertschöpfung zeigt sich im Unterschied zwischen dem jeweiligen Einkaufspreis und Verkaufspreis einer Ware.**

Entstehung des Mehrwerts

Stufen der Erzeugung und des Vertriebs	Einkaufspreis →	Mehrwert durch Leistungserstellung und Gewinn	→ Verkaufspreis
1. Stoffherstellung (ohne fremde Leistungen und Leistungen)	0,00 EUR	2.000,00 EUR	2.000,00 EUR
2. Industriebetrieb	2.000,00 EUR	4.000,00 EUR	6.000,00 EUR
3. Großhandel	6.000,00 EUR	1.500,00 EUR	7.500,00 EUR
4. Einzelhandel	7.500,00 EUR	1.500,00 EUR	9.000,00 EUR
5. Endverbraucher	9.000,00 EUR		

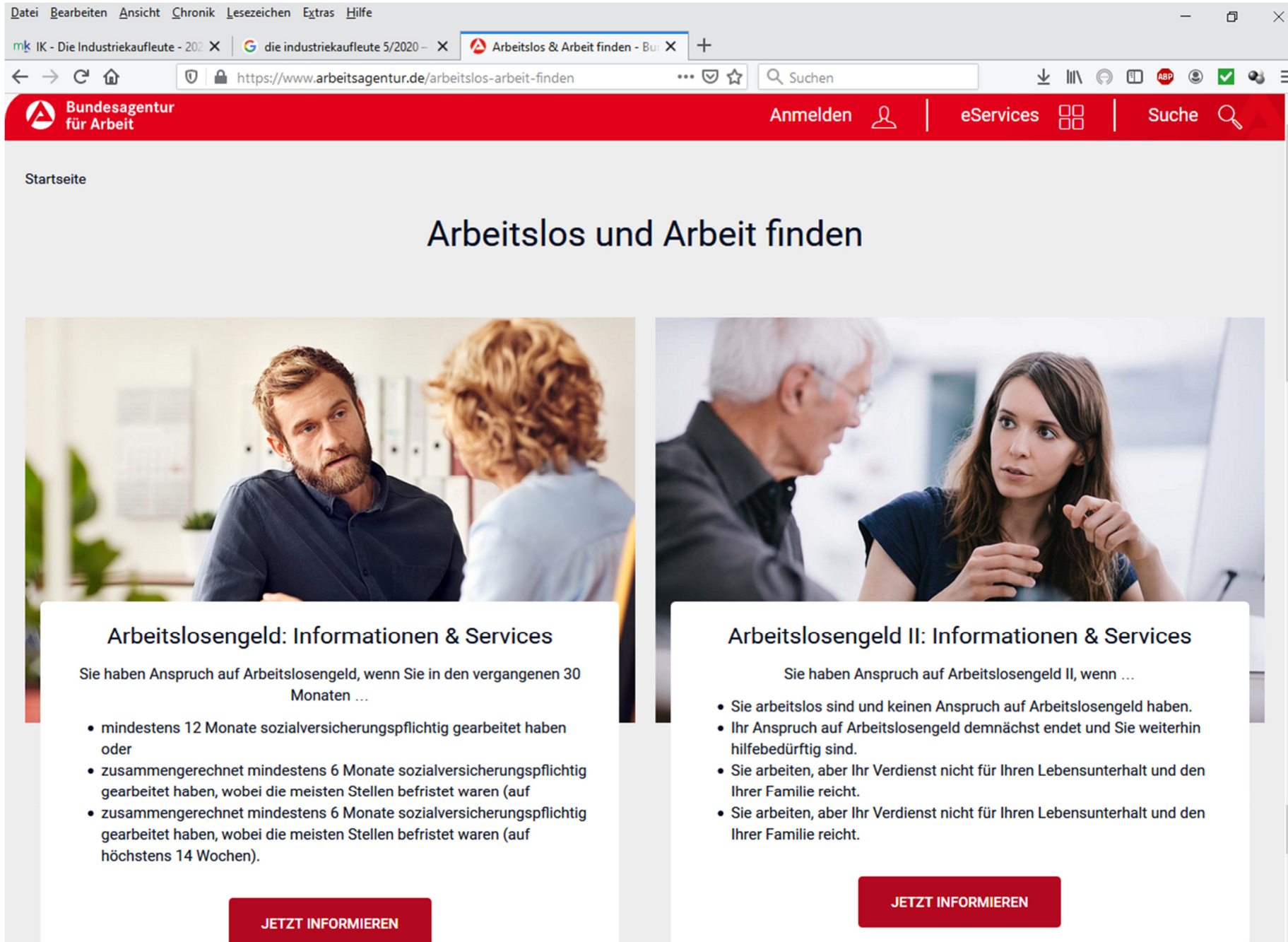
4.1.3 Umsatzsteuer – Vorsteuer – Zahllast

Bei einer **Eingangsbuchung** wird uns vom Lieferanten **Umsatzsteuer** in Rechnung gestellt, die wir an ihn zusammen mit dem **reinen Warenwert** bezahlen müssen. Bei unseren **Ausgangsbuchungen** stellen wir unseren Kunden die **Umsatzsteuer** auf den um den Mehrwert erhöhten **Warenwert** in Rechnung. Der Staat will lediglich die **Wertschöpfung (Mehrwert)** mit der Umsatzsteuer¹ besteuern, wobei aber für den Unternehmer keine Belastung entstehen soll. Daher wird nur der **Unterschiedsbetrag** zwischen der von uns beim **Einkauf** bezahlten **Umsatzsteuer** und der unseren **Kunden** berechneten **Umsatzsteuer** an das **Finanzamt** abgeführt. Diesen Betrag bezeichnet man als **Zahllast**.



¹ Steuerrechtlich wird nur der Begriff Umsatzsteuer verwendet. Mehrwertsteuer wird jedoch in der Geschäftspraxis auf Rechnungen immer noch verwendet.


Anlage 4



The screenshot shows a web browser window with the URL <https://www.arbeitsagentur.de/arbeitslos-arbeit-finden>. The page header includes the logo of the Bundesagentur für Arbeit and navigation links for 'Anmelden', 'eServices', and 'Suche'. The main heading is 'Arbeitslos und Arbeit finden'. Below this, there are two columns of information, each with a background image and a white text box containing text and a red button.

Startseite

Arbeitslos und Arbeit finden




Arbeitslosengeld: Informationen & Services

Sie haben Anspruch auf Arbeitslosengeld, wenn Sie in den vergangenen 30 Monaten ...

- mindestens 12 Monate sozialversicherungspflichtig gearbeitet haben oder
- zusammengerechnet mindestens 6 Monate sozialversicherungspflichtig gearbeitet haben, wobei die meisten Stellen befristet waren (auf
- zusammengerechnet mindestens 6 Monate sozialversicherungspflichtig gearbeitet haben, wobei die meisten Stellen befristet waren (auf höchstens 14 Wochen).

[JETZT INFORMIEREN](#)



Arbeitslosengeld II: Informationen & Services

Sie haben Anspruch auf Arbeitslosengeld II, wenn ...

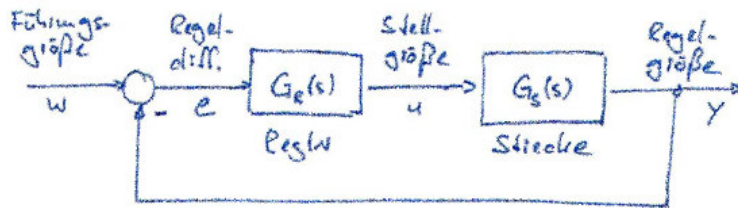
- Sie arbeitslos sind und keinen Anspruch auf Arbeitslosengeld haben.
- Ihr Anspruch auf Arbeitslosengeld demnächst endet und Sie weiterhin hilfebedürftig sind.
- Sie arbeiten, aber Ihr Verdienst nicht für Ihren Lebensunterhalt und den Ihrer Familie reicht.
- Sie arbeiten, aber Ihr Verdienst nicht für Ihren Lebensunterhalt und den Ihrer Familie reicht.

[JETZT INFORMIEREN](#)

Mess- und Regelungstechnik

Prof. Dr.-Ing. Christoph Ament

Lehrstuhl Regelungstechnik in der Ingenieurinformatik



Stand: Juni 2017

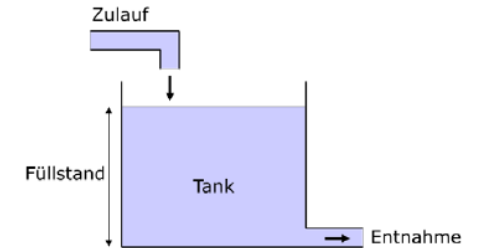
1 Einführung: Worum soll es gehen?

1.1 Die Grundaufgabe

Zuerst soll die Struktur der Grundaufgabe aus einem Beispiel heraus entwickelt werden:

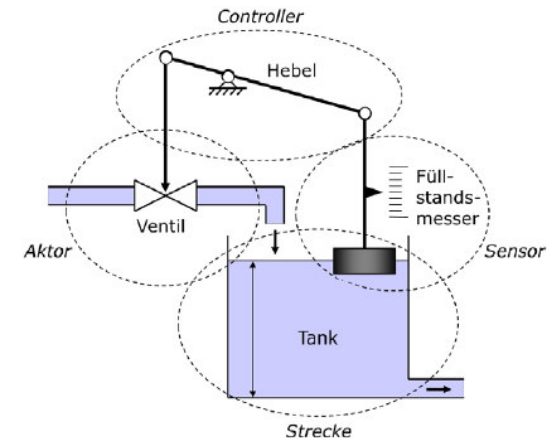
Bsp. 1-1: Vorlaufbehälter

Der Füllstand im nebenstehend gezeigten Tank soll immer auf einer konstanten Sollhöhe gehalten werden – auch wenn immer wieder in unregelmäßigen Abständen Flüssigkeit entnommen wird. Dies könnte ein Vorlaufbehälter in einem verfahrenstechnischen Prozess sein, es könnte aber auch einfach der Wasserbehälter eines WC sein.



Wie könnte diese Aufgabe automatisch gelöst werden?

Dazu müsste zunächst der Füllstand erfasst werden. Ein *Füllstandsmesser* auf Basis eines Schwimmers könnte diese Aufgabe übernehmen (siehe nachstehendes Bild). Weiterhin muss eine Möglichkeit geschaffen werden, auf den Tank geeignet einzuwirken, d.h. Flüssigkeit nachfüllen zu können. Für die Dosierung könnte ein *Ventil* in den Zulauf eingebaut werden. Schließlich muss eine geeignete Verbindung zwischen Füllstandsmessung und Ventil geschaffen werden, die z.B. dann das Ventil öffnet, wenn der gemessene Füllstand unter den Sollwert fällt. Dies könnte durch den im Bild schematisch dargestellten *Hebel* erreicht werden.



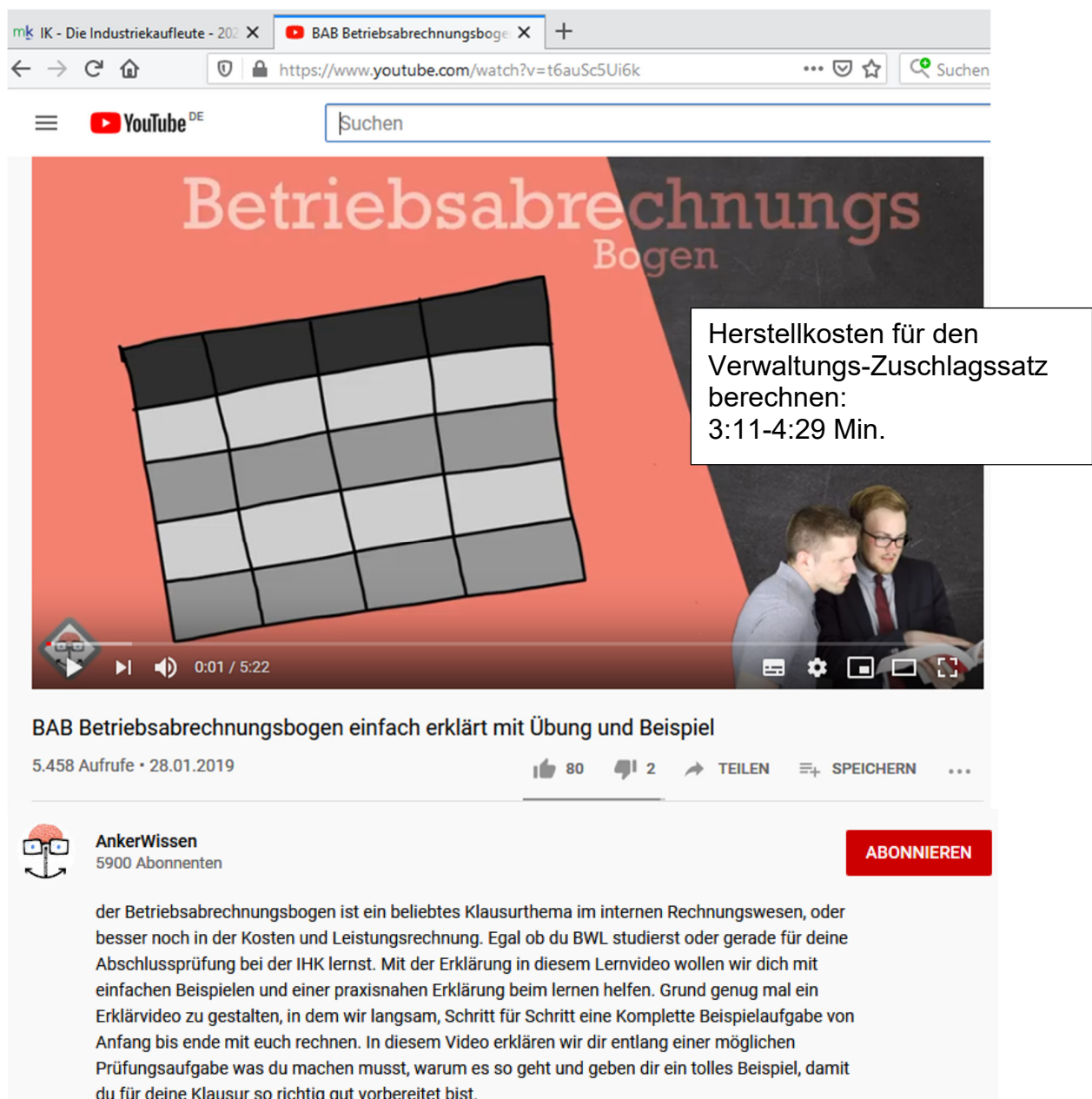
Typisch ist in diesem Beispiel auch, dass das physikalische System, also der Tank, einer Störung unterliegt: Hier wird in nicht absehbarer Weise Flüssigkeit entnommen – was die Korrektur erst notwendig macht!

Anlage 6

Im Rahmen Ihrer Projektarbeit treffen Sie sich am 12.12.2020 um 14:30 Uhr mit den Herren Verden, Rolf und Timmermann, Patrick in der Zentrale der Firma Audi AG in Neckarsulm.

Die beiden Herren arbeiten im Bereich Motorenentwicklung für den e-tron und erläutern Ihnen, warum es zu dem Täuschungsmanöver von Audi bei den Dieselmotoren gekommen ist.

Anlage 7



Herstellkosten für den Verwaltungs-Zuschlagssatz berechnen: 3:11-4:29 Min.

BAB Betriebsabrechnungsbogen einfach erklärt mit Übung und Beispiel

5.458 Aufrufe • 28.01.2019

80 2 TEILEN SPEICHERN

AnkerWissen
5900 Abonnenten

ABONNIEREN

der Betriebsabrechnungsbogen ist ein beliebtes Klausurthema im internen Rechnungswesen, oder besser noch in der Kosten und Leistungsrechnung. Egal ob du BWL studierst oder gerade für deine Abschlussprüfung bei der IHK lernst. Mit der Erklärung in diesem Lernvideo wollen wir dich mit einfachen Beispielen und einer praxisnahen Erklärung beim lernen helfen. Grund genug mal ein Erklärvideo zu gestalten, in dem wir langsam, Schritt für Schritt eine Komplette Beispielaufgabe von Anfang bis ende mit euch rechnen. In diesem Video erklären wir dir entlang einer möglichen Prüfungsaufgabe was du machen musst, warum es so geht und geben dir ein tolles Beispiel, damit du für deine Klausur so richtig gut vorbereitet bist.